

2014年成人高等学校招生全国统一考试

www.233.com

历史 地理


www.233.com

答案必须答在答题卡上指定的位置，答在试卷上无效。

233网校 选择题

一、选择题：1~40题，每小题2分，共80分。在每小题给出的4个选项中，选出一项符合题目要求的，将所选项前的字母填涂在答题卡相应题号的信息点上。

- 下列各项中，最早的古人类是
A. 山顶洞人 B. 北京人 C. 元谋人 D. 蓝田人
- “战国七雄”中，源于“三家分晋”形成的是
A. 赵国、魏国、燕国 B. 魏国、燕国、韩国
C. 燕国、韩国、赵国 D. 韩国、赵国、魏国
- 唐玄宗统治后期爆发的战乱是
A. 七国之乱 B. 八王之乱
C. 陈桥兵变 D. 安史之乱
- 中国古代医学著作《备急千金要方》、《千金翼方》合称为《千金方》，其著者是被后世称为“药王”的
A. 张仲景 B. 孙思邈
C. 沈括 D. 李时珍
- 两宋时期，在大战之后签订“澶渊之盟”的双方是
A. 北宋与辽国 B. 北宋与西夏
C. 南宋与金国 D. 南宋与元
- “郑和下西洋”的伟大历史壮举发生在
A. 北宋 B. 南宋 C. 明代 D. 清代
- 太平天国初步建立政权是在
A. 金田 B. 永安 C. 天京 D. 安庆

推动洋务运动的中央机构是 分享到: 

A. 军机处 B. 总理衙门 C. 理藩院 D. 责任内阁

9. 标志着中国新民主主义革命开端的是
A. 辛亥革命 B. 新文化运动
C. 五四运动 D. 中国共产党成立

10. 湖北、江西人民收回汉口和九江英租界是在
A. 五四运动时期 B. 北伐战争时期
C. 抗日战争时期 D. 解放战争时期

11. 1931年,中华苏维埃共和国成立,其首都都是
A. 瑞金 B. 遵义 C. 延安 D. 北平

12. 中国共产党制定全面抗战路线的会议是
A. 八七会议 B. 瓦窑堡会议
C. 遵义会议 D. 洛川会议

13. 在宗教改革中,马丁·路德提出“信仰的本质是内心活动”。这表明他反对
A. 罗马天主教教廷 B. 国家干预宗教
C. 人们信仰宗教 D. 成立教会组织

14. 17世纪发生的英国革命对后世产生的巨大影响之一是
A. 自由平等博爱的思想 B. 天赋人权的主张
C. 实行宪政的政治体制 D. 三权分立的原则

15. 美国独立后,存在着两种主要经济形式,南北方差异很大,最终导致发生南北战争。南方与北方的不同之处是
A. 盛行奴隶制 B. 工商业发达
C. 要求提高关税 D. 要求保护国内市场

16. 在巴黎和会的四人会议上,主张德国必须承担巨额赔款,“掏尽德国人腰包”的政府首脑是
A. 威尔逊 B. 罗斯福 C. 克里蒙梭 D. 奥兰多

17. 在第二次世界大战的一次战役中,近卫军的一个战斗小组抵御德国军队的进攻,死守“一月九日”广场上的一座大楼达两个月之久,为赢得反攻做出贡献。这次战役是
A. 敦刻尔克战役 B. 斯大林格勒战役
C. 阿拉曼战役 D. 诺曼底战役

18. 1947 年，美国总统杜鲁门发表演说，提出“杜鲁门主义”，被认为是美国外交政策的转折点和冷战正式开始的标志。这是因为杜鲁门在演说中表示
- A. 欧洲被铁幕隔开为对立的两部分
 - B. 援助土耳其和希腊
 - C. 援助西欧复兴以抗衡苏联
 - D. 在世界各地抵制“极权政权”的扩张
19. 1964 年，勃列日涅夫上台执政，提出在社会主义固有的基础上建设“发达社会主义”的理论，取代了赫鲁晓夫的“建设共产主义”的理论。勃列日涅夫的理论
- A. 彻底纠正了赫鲁晓夫的冒进
 - B. 突破了斯大林模式的束缚
 - C. 体现了勇于改革的精神
 - D. 一定程度上延续了赫鲁晓夫的理论
20. 1979~1990 年撒切尔夫人执政期间，第二次世界大战后经济发展迟缓的“英国病”得到明显改善。撒切尔政府采取的主要政策有
- A. 国有企业私有化
 - B. 增加政府公共开支
 - C. 扩大社会福利
 - D. 加入欧洲共同体

图 1 示意某河流域（地处北纬 $48^{\circ}35' \sim 61^{\circ}55'$ ，干流全长约 3 600 千米，流域面积 138 万平方千米，干流总落差 256 米）内城市分布。读图 1，完成 21~23 题。

21. 该河是
- A. 多瑙河
 - B. 莱茵河
 - C. 伏尔加河
 - D. 乌拉尔河
22. 该河注入
- A. 北海
 - B. 黑海
 - C. 咸海
 - D. 里海
23. 据提供的信息判断，该河
- A. 水流较平稳，航运价值高
 - B. 地处低纬，冬季无结冰
 - C. 上游支流少，下游支流多
 - D. 干流落差极大，水能极为丰富



图 1

图2为科考人员在我国某地考察时，面向北方拍摄的景观。读图2，完成24~26题。



图2

24. 考察地区的地理位置最有可能位于
 A. 云贵高原 B. 塔里木盆地 C. 四川盆地 D. 东南丘陵
25. 考察地区的自然环境特征是
 A. 地表起伏大，土壤有机质含量高 B. 太阳辐射强，气温年较差小
 C. 流水作用弱，地表物质移动慢 D. 风力侵蚀强，气温日较差大
26. 拍摄到此景观时该地的地方时可能为
 A. 10:40 B. 12:10 C. 16:15 D. 22:05

图3显示的是地球表面陆地（I阴影部分）和海洋（II空白部分）在不同纬度带的分布面积（图中数字为面积，单位：百万平方千米）。读图3，完成27~28题。




图3

27. 按纬度间隔 10°考虑，全球陆地面积最大的区域分布在
 A. 40°~50°N B. 30°~40°N C. 20°~30°N D. 50°~60°S
28. I、II 在全球分布面积的比例约为
 A. 2:8 B. 3:7 C. 4:6 D. 5:5

至 2009 年，我国在南极地区已建成长城站（62°12'59"S，58°57'52"W）、中山站（69°22'24"S，76°22'40"E）、昆仑站（80°25'01"S，77°06'58"E）三座科学考察站。据此完成 29~30 题。

29. 三座科学考察站
- A. 均位于东半球
 - B. 其中的昆仑站距南极点最近
 - C. 均位于南极圈以内
 - D. 其中的中山站最靠近南美大陆
30. 中山站当地时间 2009 年 1 月 22 日 12 时，中国南极中山站卫星网络通讯系统建设成功。此时的北京时间为 2009 年 1 月 22 日
- A. 6 时
 - B. 9 时
 - C. 13 时
 - D. 15 时

表 1 为我国四个省区常住人口（2000 年为第五次人口普查数据，2010 年为第六次人口普查数据）和面积资料。读表 1，完成 31~32 题。

表 1

	2000 年 (万人)	2010 年 (万人)	面积 (万平方千米)
河南	9 256	9 402	16.7
山东	9 079	9 579	15.4
广东	8 642	10 430	18.0
四川	8 329	8 048	48.1

31. 四川省常住人口在最近两次人口普查期间约减少 280 万，其主要原因是
- A. 自然灾害频发
 - B. 迁出人口数量大
 - C. 人口出生率有所下降
 - D. 人口的平均寿命缩短
32. 2010 年四个省区中人口密度最低的是
- A. 广东
 - B. 山东
 - C. 河南
 - D. 四川

图 4 示意非洲北部某国及油田分布。读图 4，完成 33~35 题。

33. 该国的石油大部分经过海港与管道向境外输出，该国北部濒临的海是
- A. 阿拉伯海
 - B. 地中海
 - C. 几内亚湾
 - D. 红海
34. 该国首都（甲）一年中的多雨时期在
- A. 春季
 - B. 夏季
 - C. 秋季
 - D. 冬季



图 4

35. 该国地表自然景观主要为

- A. 森林
- B. 草原
- C. 荒漠
- D. 沼泽

图5示意咖啡在全球的分布范围与各产地的咖啡起始种植年代。读图5, 完成36~38题。

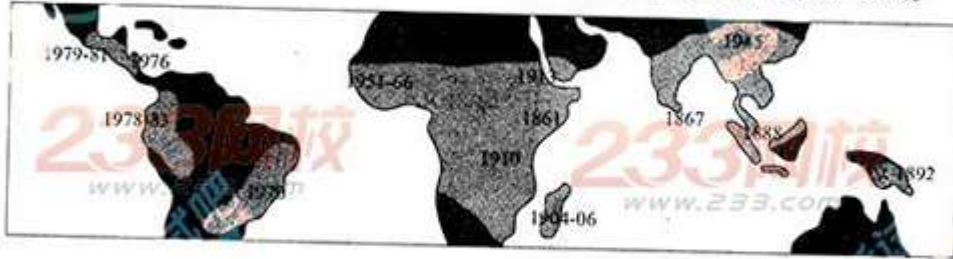


图5

36. 据图示信息可知, 种植咖啡最早的地区位于

- A. 非洲的埃塞俄比亚
- B. 亚洲的印度尼西亚
- C. 北美洲的墨西哥
- D. 南美洲的阿根廷

37. 影响该作物分布的首要因素为

- A. 海陆位置
- B. 地表形态
- C. 热量条件
- D. 水文条件

38. 目前, 世界产量最大的咖啡生产国是

- A. 美国
- B. 巴西
- C. 印度
- D. 中国

由于全球大米价格持续上涨, 加上担心出现供不应求的状况, 近年来东南亚等地主要大米出口国纷纷出台限制大米出口的措施, 以优先满足国内需求。读图6, 完成39~40题。

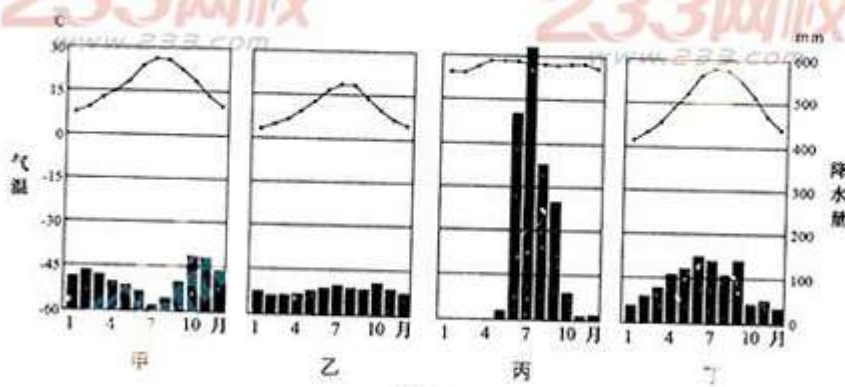


图6

39. 图6中与东南亚水稻种植区的气候类型相符的是

- A. 甲
- B. 乙
- C. 丙
- D. 丁

40. 为了应对世界范围内可能出现的粮食供应危机,我国应采取的措施是

- A. 加强商品粮基地的建设,提高粮食单位面积产量
- B. 限制沿海地区的经济发展,增加耕地面积
- C. 取消西部地区退耕还林还草的政策
- D. 大幅度提高粮食价格,提高农民的种粮积极性

非选择题

二、非选择题: 41-46小题, 共70分, 把答案写在答题卡相应题号后。

41. 回答问题。(11分)

概述唐朝实行两税法的原因、主要内容和作用。

42. 阅读材料, 回答问题。(12分)

材料

很显然,《辛丑条约》是近代中国历史上空前屈辱的奴役性条约。根据这个条约,列强进一步获取了中国政治、军事、经济、文化等方面的更多权益,给中国社会带来了极其严重的危害。

——张海鹏主编:《中国近代通史》

《辛丑条约》是帝国主义强加给中国的一个严重的不平等条约。列强除了穷凶极恶地对中国人民敲榨勒索外,还重新确立了以慈禧太后为首的清政府继续充当它们的在华代理人。清政府也彻底投降帝国主义,表示要“量中华之物力,结与国之欢心”,并公开保证永远禁止中国官民成立任何反帝组织和坚决镇压中国人民的反帝斗争,从此,清政府完全成为“洋人的朝廷”。

——李侃等:《中国近代史》

概述《辛丑条约》对中国的影响。

43. 阅读材料, 回答问题。(12分)

材料

- 一、广兴会议, 万机决于公论;
- 二、上下一心, 共行经济;
- 三、官或一途以至庶民, 各遂其志, 人心不倦;
- 四、破旧有之陋习, 基于天地之公道;
- 五、求知识于世界, 大振皇基。

——《五圣誓文》(1868年)

【五条誓文】被称为日本明治政府的施政纲领。指出《五条誓文》的基本精神并说明明治政府为实施《五条誓文》采取了哪些具体措施。

44. 读图7，回答问题。(11分)

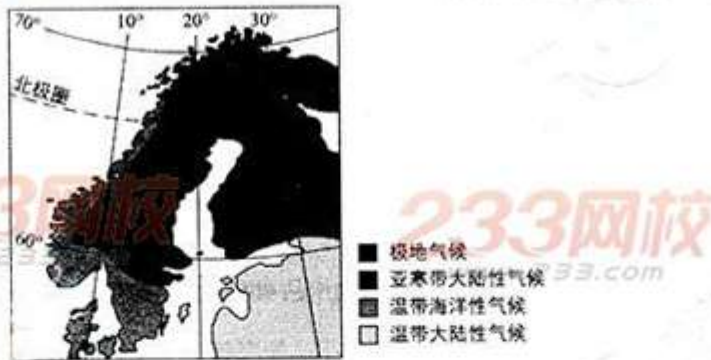


图7

(1) 甲半岛是_____ (选填一项序号即可)。

- ①巴尔干半岛
- ②伊比利亚半岛
- ③斯堪的纳维亚半岛

(2) 甲半岛西海岸曲折，多峡湾，形成该地区地貌景观的主要外力作用是_____ (选填一项序号即可)。

- ①海水作用
- ②冰川作用
- ③流水作用

(3) 甲半岛的西海岸一月平均气温比东海岸_____ (高、低)，主要原因是西海岸_____ (选填一项序号即可)。

- ①受北太平洋暖流影响而增温
- ②受北大西洋暖流影响而增温
- ③受东格陵兰寒流影响而降温

(4) 指出乙地区的主要植被类型，并简述影响该植被类型分布的主要自然因素。

45. 阅读图文资料，回答问题。(12分)

20世纪80年代以来，以纺织和服装制造业为代表的劳动密集型企业由发达国家和地区逐渐向我国大规模转移。目前，我国已经形成了数千个从事外贸纺织品和服装生产的专业镇。



图8 我国从事外贸纺织品和服装生产的专业镇分布

- (1) 由图8可知，我国从事外贸纺织品和服装生产的专业镇集中分布在_____地区和_____地区。
- (2) 简述改革开放初期我国东部沿海地区发展劳动密集型产业的优势条件。
- (3) 近年来，纺织和服装制造企业逐渐由东部沿海地区向中西部转移。试分析产业转移的原因。

46. 阅读图文资料，回答问题。(12分)

核能是20世纪初人类的一项伟大发现，其成果被逐步应用到生产和生活领域。目前，随着各国的核能计划增多和一些核事故的发生，公众日益关注核安全问题，“安全与创新利用核能”是人类共同面对的重大课题。



图9 北半球核站分布

- (1) 图示甲区域位于美国东部，乙区域位于_____，丙区域位于_____ (国家)。

233网校
2014年成人高等学校招生全国统一考试
www.233.com
历史、地理试题答案及评分参考

说明：1. 在非选择题中考生的答案与参考答案相近的，可酌情评分，但不得超过本题所分配的分数。

2. 考生答案中，中国地名出现错别字一般不给分；外国地名应以正式公开出版的《世界地图集》为依据评分，若出现同音字可酌情评分。

一、选择题：每小题2分，共80分。

- | | | | | |
|-------|-------|-------|-------|-------|
| 1. C | 2. D | 3. D | 4. B | 5. A |
| 6. C | 7. B | 8. B | 9. C | 10. B |
| 11. A | 12. D | 13. A | 14. C | 15. A |
| 16. C | 17. B | 18. D | 19. D | 20. A |
| 21. C | 22. D | 23. A | 24. B | 25. D |
| 26. C | 27. A | 28. B | 29. B | 30. D |
| 31. B | 32. D | 33. B | 34. D | 35. C |
| 36. A | 37. C | 38. B | 39. C | 40. A |

二、非选择题：共70分。

41. 答案要点（11分）

原因：

土地兼并严重，均田制遭到破坏，租庸调制无法维持，政府财政困难。（4分）

内容：

按土地和财产的多少，分夏季和秋季两次收税。（3分）

作用：

（1）改变了过去以人丁为主的征税方法，是我国古代赋税制度的一次重大变化。（2分）

（2）政府的收入增多，农民的负担依然很重。（2分）

42. 答案要点（12分）

巨额赔款严重摧残了中国社会经济，加深了人民的苦难；（4分）

在北京设立“使馆界”和外国侵略者控制京津地区，使中国领土主权和国防能力受到严重损害；清政府进一步成为帝国主义的帮凶；（4分）

标志着中国半殖民地半封建社会形成，中国半殖民地半封建社会统治秩序完全确立。（4分）

43. 答案要点 (12 分)

基本精神:

革除幕府封建统治的弊端, 向西方学习, 发展资本主义。(4分)

措施:

废藩置县, 建立中央集权的政治体制; 改革土地制度, 承认土地私有; 引进西方技术, 发展资本主义工商业; 文明开化, 废除封建等级制度和封建陋习, 发展教育。(8分)

44. 答案要点 (11 分)

(1) ③ (2分)

(2) ② (2分)

(3) 高 (2分) ② (2分)

(4) 亚寒带针叶林 (1分)

纬度位置 (纬度高, 气温较低), 大气环流 (地处副极地低气压带, 降水较多)
(答得合理, 酌情评分) (2分)

45. 答案要点 (12 分)

(1) 珠江三角洲 长江三角洲 (顺序不限, 每空 2 分, 共 4 分)

(2) 临海, 交通便利。劳动力供应充足。劳动力价格低。对劳动力素质要求较低, 能较好地解决劳动力就业问题。招商引资等政策支持。(答得合理, 酌情评分) (4分)

(3) 东部沿海地区生活水平不断提高, 劳动力价格上升, 环境保护成本提高, 产业结构调整和优化。我国中西部经济相对落后, 劳动力价格低廉, 劳动力数量众多。西部大开发的发展战略。(答得合理, 酌情评分) (4分)

46. 答案要点 (12 分)

(1) 欧洲西部 (2分) 日本 (2分)

(2) ①③④ (3分, 多选、少选不得分)

(3) 地处环太平洋地震带 (板块交界处) (2分), 地壳不稳定、多强烈地震发生。
(3分)

历史 地理

答案必须答在答题卡上指定的位置，答在试卷上无效。

233网校
www.233.com

选择题

233网校
www.233.com

一、选择题：1~40题，每小题2分，共80分。在每小题给出的4个选项中，选出一项符合题目要求的，将所选项前的字母填涂在答题卡相应题号的信息点上。

1. “武王伐纣”推翻的王朝是
A. 夏 B. 商 C. 周 D. 秦
2. 南朝思想家范缜在所著《神灭论》中
A. 反对“天人感应”、“君权神授”说
B. 主张“人死不为鬼”，反对有鬼论
C. 抨击“存天理，灭人欲”的理学观念
D. 批驳佛教宣扬的形神分离、形亡而神不灭的观点
3. 科举制创始于隋代，而在科举考试中实行八股取士始于
A. 唐代 B. 宋代 C. 明代 D. 清代
4. 元世祖忽必烈为加强中央集权，在中央设中书省、枢密院、御史台外，另设宣政院管理
A. 行政事务 B. 军事事务
C. 监察事务 D. 宗教事务
5. 16世纪中叶，明朝将领俞大猷、戚继光抗击倭寇的斗争取得重大胜利。倭寇源起于元末明初的
A. 荷兰殖民者 B. 日本海盜
C. 葡萄牙殖民者 D. 蒙古瓦剌部
6. 全面总结了16世纪以前中国医药学，被誉为“东方医药巨典”的著作是
A. 《神农本草经》 B. 《伤寒杂病论》
C. 《千金方》 D. 《本草纲目》

7. 曾国藩在评论一重大历史事件时说：“举中国数千年礼义人伦诗书典制，一旦扫地荡尽。此岂独我大清之奇变，乃开辟以来名教之奇变，我孔子、孟子之所痛哭于九原。”这一历史事件是
- A. 鸦片战争 B. 太平天国运动
C. 甲午战争 D. 义和团运动
8. 《新学伪经考》、《孔子改制考》的思想在社会上引起极大轰动，被誉为“思想界之大飓风”、“火山大喷发”。其作者是
- A. 康有为 B. 梁启超 C. 谭嗣同 D. 郑观应
9. 陈独秀在新文化运动期间说：“我们现在认定，只有这两位先生可以救治中国政治上、道德上、学术上、思想上一切的黑暗。”这“两位先生”是
- A. 民主和科学 B. 民主和法制
C. 科学和技术 D. 法制和科学
10. 1926年，为推翻军阀政治，统一中国，国民政府决定出师北伐。北伐对象中盘踞湖南、湖北的军阀是
- A. 吴佩孚 B. 段祺瑞 C. 孙传芳 D. 张作霖
11. 标志着中国共产党走向成熟，第一次独立自主地运用马克思主义原理解决自己的路线、方针和政策问题的会议是
- A. 中共三大 B. 八七会议
C. 遵义会议 D. 中共七大
12. 新中国成立后曾有一幅宣传漫画，画上有首诗写到：肥猪赛大象，就是鼻子短；全社杀一口，足够吃半年。这首诗应出现于
- A. 土地改革时期 B. 三大改造时期
C. 大跃进时期 D. 文化大革命时期
13. 20世纪末有一首歌唱到：“一九七九年，那是一个春天，有一位老人在中国的南海边画了一个圈，神话般地崛起座座城，奇迹般地聚起座座金山。”这反映的是
- A. 沿海开放城市的设立 B. 沿海经济开放区的开辟
C. 经济技术开发区的设立 D. 经济特区的设立
14. 据统计，1500年时 **真题解答 免费题库** 600年达到5.45亿，1750年更达到7.2亿。这在一定程度上得益于新航路开辟后
- A. 传染病的传播得到抑制 B. 人口在世界范围内的迁移
C. 商业贸易网络覆盖全球 D. 农作物品种的广泛传播

15. 1689年，英国议会通过《权利法案》等一系列法案，规定了法官任免权属于议会而不属于国王等内容。这些规定的目的是
- A. 限制君主权力
B. 实行三权分立
C. 提高司法的地位
D. 建立共和政体
16. 法国大革命期间，颁布彻底废除一切封建权利、全面限制物价等激进的法令，实行恐怖政策是在
- A. 君主立宪派统治时期
B. 吉伦特派统治时期
C. 雅各宾派统治时期
D. 拿破仑统治时期
17. 与第一次工业革命相比，第二次工业革命的显著特点是
- A. 几乎同时发生在几个先进的资本主义国家
B. 许多技术发明源于工匠的经验
C. 新兴产业集中在轻工业领域
D. 依靠政府力量的推动
18. 国内战争结束后，苏俄放弃了直接过渡到社会主义的设想和实践，开始施行新经济政策，其内容包括
- A. 没收地主土地分配给农民
B. 实行余粮收集制
C. 向农民征收粮食税
D. 禁止土地租佃和雇工
19. 面对1929年爆发的经济危机，美国总统胡佛宣称：“繁荣就在前面，转过街角就是。”这反映出
- A. 经济危机即将结束
B. 政府不愿承担反危机责任
C. 经济危机程度较轻
D. 政府未看到经济危机的严重性
20. 1946年，前英国首相丘吉尔访问美国，发表了“铁幕演说”等多次演讲，称“我力求完成好我的任务，使你们满意”，“我很可能无意中吐露了一大堆人们心中认为是对的，但有点羞怯不敢当众说出的话”。这反映出
- A. 美国尚未确立全球战略
B. “铁幕演说”符合美国的需要
C. 冷战在欧洲已全面展开
D. 英美已结成反苏同盟

图1示意某城市的本初子午线(H)标志。读图1,完成21~23题。



图1

21. 该城市是
- | | |
|-----------|----------|
| A. 法国的巴黎 | B. 希腊的雅典 |
| C. 意大利的罗马 | D. 英国的伦敦 |
22. 北京与该地经度相差约120°,当北京在秋分日的正午时,该地可能
- | | |
|---------|---------|
| A. 天色微明 | B. 旭日东升 |
| C. 夕阳西下 | D. 烈日当头 |
23. 本初子午线经过的大陆有
- | | | |
|-------|-------|---------|
| ①亚欧大陆 | ②非洲大陆 | ③澳大利亚大陆 |
| ④南极大陆 | ⑤美洲大陆 | |
- | | | | |
|--------|--------|--------|--------|
| A. ①②⑤ | B. ①②④ | C. ②③④ | D. ②③⑤ |
|--------|--------|--------|--------|

图2示意沿北纬38°地形剖面(局部)。读图2,完成24~26题。

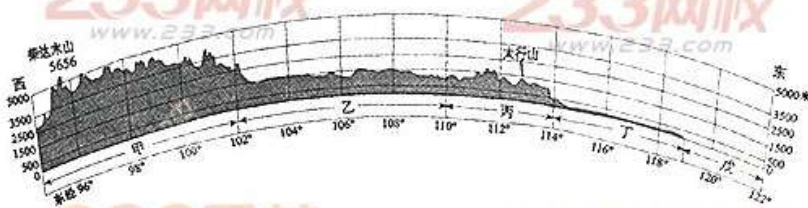


图2

24. 图中甲、乙、丙、丁四地与其对应的自然景观相符的是
- | | |
|------------|------------|
| A. 甲—荒漠、草原 | B. 乙—草原、森林 |
| C. 丙—草原 | D. 丁—荒漠 |
25. 图中丁地是我国重要的农业生产基地,主要农作物有
- | | |
|-------------|-------------|
| A. 水稻、小麦、甜菜 | B. 水稻、玉米、大豆 |
| C. 小麦、玉米、棉花 | D. 玉米、高粱、甘蔗 |
26. 图中戊海域是
- | | |
|-------|-------|
| A. 渤海 | B. 黄海 |
| C. 东海 | D. 南海 |

图3示意某学生绘制的北半球中纬度平原地区的树木日影状况。读图3，完成27~28题。



图3

27. 同一时刻，树影与实际情况相符的是

- A. ① B. ② C. ③ D. ④

28. 一年中，该地树影最长时的日期是

- A. 3月21日前后 B. 6月22日前后
C. 9月21日前后 D. 12月21日前后

读图4，完成29~30题。

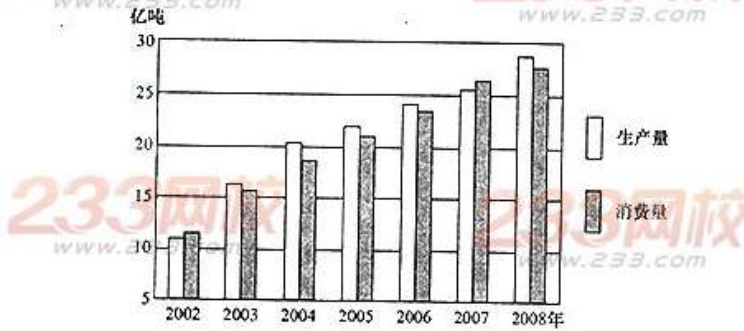


图4 我国煤炭生产与消费的变化

29. 据图可知，我国煤炭生产量低于消费量的年份分别是

- A. 2001和2007年 B. 2005和2008年
C. 2002和2007年 D. 2003和2006年

30. 我国煤炭生产和消费的总体趋势是

- A. 生产量和消费量基本稳定 B. 生产量和消费量持续上升
C. 产量增速明显快于消费增速 D. 供大于求，产能过剩

读表1, 完成31~32题。

表1 我国第五次和第六次人口普查部分数据

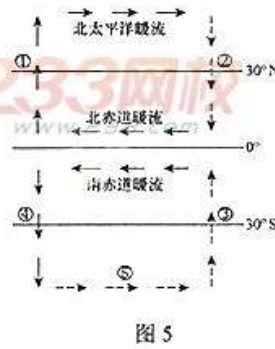
年份	性别比	人口年龄结构			流动人口 (亿人)
		0~14岁(%)	15~59岁(%)	≥60岁(%)	
2000	106.74	22.89	66.78	10.33	1.44
2010	105.20	16.60	70.14	13.26	2.61

注: 人口性别比是以女性为100, 男性对女性的比例。

31. 从2000年到2010年, 我国人口变化特点是
- A. 人口性别比例严重失调 B. 人口老龄化压力增大
- C. 青壮年人口比重减少 D. 人口迁移量基本稳定
32. 解决表中所反映的人口问题的措施主要是
- A. 提高人口性别比 B. 健全社会保障制度
- C. 控制农村人口向城市流动 D. 扩大国际劳务输出

图5示意世界局部海区洋流分布。读图5, 完成33~35题。

33. 形成图中⑤洋流的动力主要是
- A. 东北信风 B. 东南信风
- C. 极地东风 D. 中纬度西风
34. 图示①、②、③、④洋流中, 属于寒流的是
- A. ①和② B. ③和④
- C. ②和④ D. ①和③



35. ①、④洋流对沿岸地理环境的影响主要表现在
- A. 不利于污染物的扩散 B. 阻碍港口交通运输
- C. 降水增加, 气温升高 D. 气压降低, 风速减小

图 6 示意岩石圈物质循环。读图 6，完成 36~37 题。

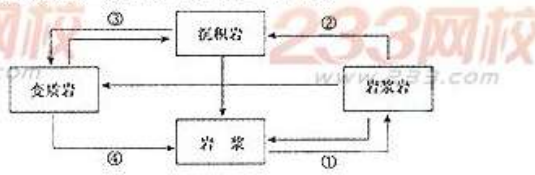


图 6

36. 图中序号与其代表的地质作用相符的是
- A. ①—外力作用
 - B. ②—变质作用
 - C. ③—冷却凝固
 - D. ④—重熔再生
37. 形成日本富士山的地质作用是
- A. ①
 - B. ②
 - C. ③
 - D. ④

我国某地区以山地、丘陵为主，耕地资源较为贫乏。当地大力发展以小商品生产为主的民营经济，经过 30 多年的建设，如今这里“山村翠竹绕，庭园桂花香”、“走过一村又一村，村村像城镇”、“走过一镇又一镇，镇镇像乡村”。据此完成 38~40 题。

38. 该地区位于
- A. 西北地区
 - B. 北方地区
 - C. 南方地区
 - D. 青藏地区
39. 该地区的聚落
- A. 以大城市为主
 - B. 以中等城市为主
 - C. 以小城镇为主
 - D. 集中连片分布
40. 该地区经济发展的特色是
- A. 旅游业发达
 - B. 以加工制造业为主
 - C. 服务业发达
 - D. 发展高科技园区

非选择题

二、非选择题：41~46 小题，共 70 分，把答案写在答题卡相应题号后。

41. 回答问题。(12 分)

概述汉武帝维护封建大一统的经济、文化措施及其政治影响。

42. 回答问题。(12 分)

《马关条约》是《南京条约》以来最严重的丧权辱国条约。概述《马关条约》的影响。

43. 阅读材料，回答问题。(11分)

材料

战争责任条款是《凡尔赛和约》的基础，该条约规定，德国及其盟国应承担战争责任。据此，协约国得以在和约中规定了对德国的惩处。但是，德国政府只承认“德国对欧洲出现战争气氛负有某些责任”，不同意“胜利者要我们承担罪责，像罪犯一样受到惩罚”。德国国内更是群情激愤，出现了反对《凡尔赛和约》的浪潮。

——摘编自中国国际关系史学会主编《国际关系史》第4卷

概括《凡尔赛和约》中处理德国问题的主要内容并对和约加以评价。

44. 读图7，完成下列要求。(10分)

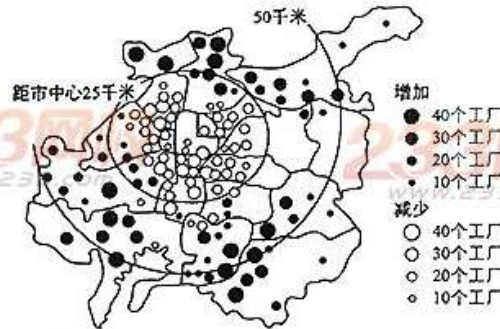


图7 世界某特大城市 20 世纪下半叶工厂数量的变化

(1) 影响该市企业数量在空间分布上发生变化的主要因素是_____ (选填一项序号即可)。

- ①交通和劳动力成本
- ②地价和环境
- ③生产技术和信息

(2) 以下三类企业中，由城市中心区向外搬迁的应是_____ (选填一项序号即可)。

- ①金融保险企业
- ②钢铁制造企业
- ③食品加工企业

(3) 简述郊区企业数量变化特点及其给郊区带来的影响。

45. 阅读资料，完成下列要求。(12分)

表2 我国两个地区农业生产比较

	甲	乙
人均耕地面积(公顷/人)	0.07	0.31
单位面积谷物产量(千克/公顷)	6 475	5 553
耕作制度	一年两熟	一年一熟
主要农作物	水稻、棉花、花卉、蔬菜	小麦、玉米、大豆

(1) 根据表 2 信息可以判断:

甲位于 233 (选填一项序号)

- ①长江三角洲
- ②华北平原
- ③东北平原
- ④海南岛

乙位于 (选填一项序号)

- ①海南岛
- ②华北平原
- ③东北平原
- ④长江三角洲

(2) 近年来, 甲地区粮食作物种植面积减少的速度高于乙地区, 说明其主要原因。

(3) 简述加强乙地区商品粮基地建设应采取的措施。

46. 读图 8, 完成下列要求。(13 分)

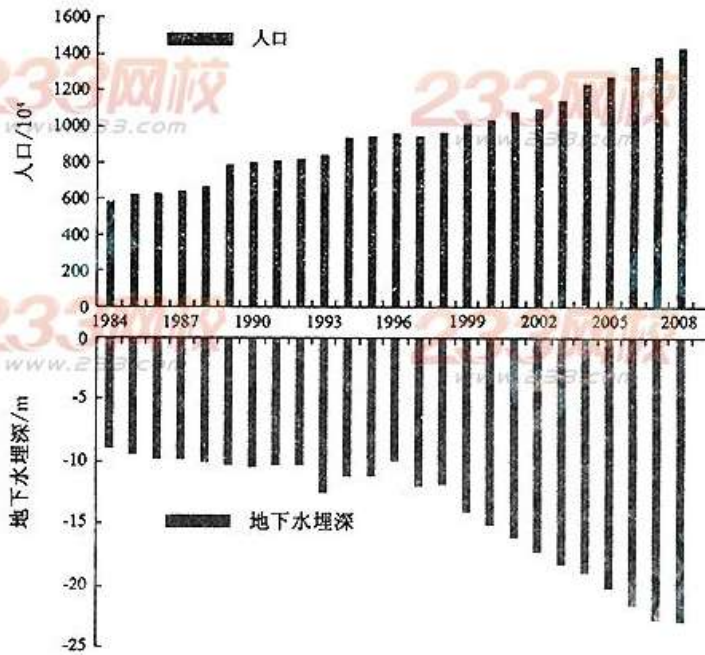


图 8 华北平原某城市 1984~2008 年人口数量和地下水埋深变化示意

图 8 华北平原某城市 1984~2008 年人口数量和地下水埋深变化示意

- (1) 概述该城市地下水位变化的特点。
- (2) 分析该城市人口数量变化与地下水位变化的关系。
- (3) 指出该城市地下水利用存在的问题并提出解决措施。

2013年成人高等学校招生全国统一考试 历史、地理试题答案及评分参考

说明：1. 在非选择题中考生的答案与参考答案相近的，可酌情评分，但不得超过本题所分配的分。

2. 考生答案中，中国地名出现错别字一般不给分；外国地名应以正式公开出版的《世界地图集》为依据评分，若出现同音字可酌情评分。

一、选择题：每小题2分，共80分。

- | | | | | |
|-------|-------|-------|-------|-------|
| 1. B | 2. D | 3. C | 4. D | 5. B |
| 6. D | 7. B | 8. A | 9. A | 10. A |
| 11. C | 12. C | 13. D | 14. D | 15. A |
| 16. C | 17. A | 18. C | 19. B | 20. B |
| 21. D | 22. A | 23. B | 24. A | 25. C |
| 26. A | 27. A | 28. D | 29. C | 30. B |
| 31. B | 32. B | 33. D | 34. D | 35. C |
| 36. D | 37. A | 38. C | 39. C | 40. B |

二、非选择题：共70分。

41. 答案要点（12分）

经济方面：统一币制，铸造五铢钱；实行盐铁官营；平抑物价、征收工商税。（6分）

文化方面：罢黜百家，独尊儒术；创办官学。（4分）

政治影响：推动了君主专制和中央集权的空前强化。（2分）

42. 答案要点（12分）

割地进一步破坏了中国的领土完整；赔款加重了中国人民的负担；开商埠等使帝国主义侵略势力深入到中国内地；设厂等严重阻碍了中国民族资本主义的发展。（8分）

给中国带来深重的灾难，使中国的半殖民地化程度进一步加深。（4分）

43. 答案要点（11分）

内容：德国承担战争责任；重新划分德国疆界；战胜国瓜分德国海外殖民地；严格限制德国军备；德国承担巨额赔款。（7分）

评价：在《凡尔赛和约》等一系列条约基础上，建立起资本主义世界战后新秩序；加深了战胜国与战败国的矛盾；战胜国之间是暂时的妥协。（4分）

44. 答案要点 (10 分)

(1) ② (2 分)

(2) ② (2 分)

(3) 企业数量增加 (2 分)

有利方面: 就业数量增加; 收入增加; 基础设施得到改善; (2 分)

不利方面: 郊区用地紧张; 地价上升; 环境质量下降。(2 分)

(有利和不利方面各答对其中两点即可, 其他答案酌情评分)

45. 答案要点 (12 分)

(1) ① (2 分)

③ (2 分)

(2) 城市化的推进占用部分耕地; 城郊农业(花卉、蔬菜种植)的发展、出口农产品基地建设(农业结构调整), 使得粮食作物占地面积缩小。(4 分)

(3) 加大科技投入, 提高粮食单位面积产量; 加强农田管理与基础设施建设, 保证稳产; 改善农业生态环境, 提高抗灾防灾能力等

(每点 2 分, 共 4 分, 答出其中两点即可得满分。其他合理答案, 酌情评分)

46. 答案要点 (13 分)

(1) (从 1998 年开始) 地下水位逐年下降 (2 分)

(2) 人口数量持续增长, 对水资源的需求越来越大, 导致地下水位不断下降 (4 分。

其他合理答案, 酌情评分)

(3) 过度开采地下水, 有可能导致地面沉降 (2 分)

严格控制地下水的开采; 调整产业结构; 控制人口增长; 节约用水; 提高用水效率; 跨区域调水等 (5 分。答出其中三项即可得 5 分。其他合理答案, 酌情评分)



DY 黄河三角洲
继续教育培训中心

绝密★启用前

2012年成人高等学校招生全国统一考试

历史 地理

答案必须答在答题卡上指定的位置，答在试卷上无效。

一、选择题：1~40题，每小题2分，共80分。在每小题给出的4个选项中，选出一项符合题目要求的，将所选项前的字母填涂在答题卡相应题号的信息点上。

1. 以出土青铜器和甲骨文而闻名于世的安阳殷墟遗址，其文化年代是
A. 夏代
B. 商代
C. 西周
D. 东周
2. 阐释八卦和各种阴阳矛盾关系的古代文献《周易》属于
A. 儒家经典
B. 道家经典
C. 法家经典
D. 墨家经典
3. 汉光武帝刘秀最重要的历史活动是
A. 推翻秦朝统治，建立西汉政权
B. 恢复汉室统治，实现社会稳定
C. 罢黜百家，独尊儒术
D. 派遣张骞出使西域
4. 唐中期改革赋税制度，实行两税法，该法规定
A. 均田农民交纳谷物和绢帛，并可以纳绢代替徭役
B. 编户按资产交纳户税，按田亩交纳地税
C. 将田赋、徭役、杂税合并，折银交纳
D. 将丁税平均摊入田赋，统一征收地丁银
5. 南宋名将岳飞率部抗击北方南下之敌，取得郾城大捷，当时与宋政权对峙的北方政权是
A. 辽国
B. 金国
C. 西夏
D. 蒙古
6. 被国外学者称为“中国17世纪的工艺百科全书”的《天工开物》，其作者是
A. 沈括
B. 郭守敬
C. 徐光启
D. 宋应星

7. 《南京条约》规定，英国商人在通商各口，“应纳进口出口货税、例费，均宜秉公议定则例”，实行协定关税。这一规定的直接后果是
- A. 中国关税自主权开始丧失
B. 中国海关被英国控制
C. 中国封建经济开始解体
D. 中国成为外国商品倾销市场
8. 《天朝田亩制度》颁布后不久，太平天国即推行“照旧交粮纳税”的政策，在安徽、江西等地仿照清朝的旧制来征收田赋。这反映了
- A. 太平天国由盛转衰开始走向衰败
B. 《天朝田亩制度》未满足农民的土地要求
C. 《天朝田亩制度》脱离社会现实无法施行
D. 太平天国放弃先前的政治主张
9. 李鸿章对其创办的一支军队颇为得意，称其“声势已壮……入可以驻守辽瀋，出可以援应他处，辅以各炮台陆军驻守，良足拱卫京畿”。这支军队是
- A. 淮军
B. 北洋海军
C. 湘军
D. 南洋海军
10. 清政府迫于列强压力签订不平等条约，其内容包括将总理衙门改为外务部，位居六部之首。该条约是
- A. 《南京条约》
B. 《天津条约》
C. 《北京条约》
D. 《辛丑条约》
11. 宣传进化论，进而警示国人，如墨守成规，拒绝变革，就将被先进的西方民族所淘汰的著作是
- A. 《海国图志》
B. 《资政新篇》
C. 《天演论》
D. 《文学革命论》
12. 新文化运动时期，有文章阐述中国人民对十月革命应采取的态度是“翘首以迎其世界的新文明之曙光，倾耳以迎其建于自由、人道上之新俄罗斯之消息，而求所及适应此世界的新潮流”。该文的作者是
- A. 鲁迅
B. 蔡元培
C. 胡适
D. 李大钊
13. 对过渡时期总路线有过一种通俗的解释：总路线好比一只鸟，它要有一个主体，又要有一双翅膀。这个“主体”是指
- A. 实现社会主义工业化
B. 对农业的社会主义改造
C. 对手工业的社会主义改造
D. 对私营商业的社会主义改造

图1是某记者在英国中部地区的路旁拍摄的照片，读图1，完成21~22题。

- 21. 路牌在提示司机或行人
 - A. 前方路面不平
 - B. 前方有加油站
 - C. 附近有服务区
 - D. 附近有动物出没



图1

- 22. 这个国家是
 - A. 南非
 - B. 澳大利亚
 - C. 印度
 - D. 哥伦比亚

2012年第14号热带风暴“天秤”于8月20日05时加强为台风，图2示意台风中心在21日和30日所处位置，读图2，完成23~25题。



图2

- 23. 8月21日台风中心位于
 - A. 20° N, 125° W
 - B. 20° N, 125° E
 - C. 30° N, 130° W
 - D. 40° N, 135° E
- 24. 8月30日台风中心移到
 - A. 南海北部海域
 - B. 东海南部海域
 - C. 黄海南部海域
 - D. 渤海南部海域
- 25. 8月30日，机场航班可能受到台风影响的的城市是
 - A. 台北
 - B. 香港
 - C. 东京
 - D. 首尔

图3是20元人民币上的图案与实地景观对照图，读图3，完成26~27题。

- 26. 图示景观的分布地位于
 - A. 新疆维吾尔自治区
 - B. 广西壮族自治区
 - C. 西藏自治区
 - D. 宁夏回族自治区
- 27. 该风景区的突出特点是
 - A. 山清、水秀、洞奇、石美
 - B. 奇松、怪石、云海、瀑布
 - C. 温泉、椰林、石窟、日出
 - D. 梯田、竹林、湿地、石刻



图3

读图4，完成28~30题。

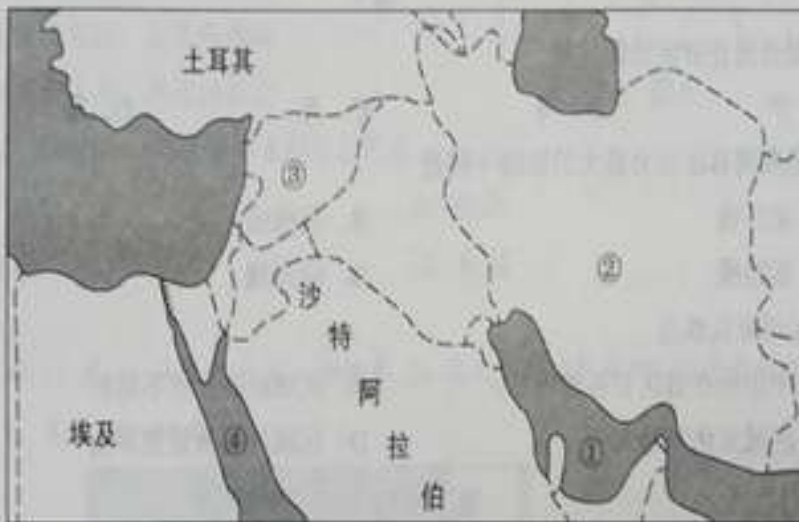


图4

- 28. 由图中海湾①运出的大宗商品是
 - A. 铁矿石
 - B. 石油
 - C. 煤炭
 - D. 粮食
- 29. 图中②、③所示的两个国家分别是
 - A. 阿富汗、伊朗
 - B. 伊朗、伊拉克
 - C. 伊朗、叙利亚
 - D. 伊朗、科威特
- 30. 我国海军护航编队应通过苏伊士运河访问地中海沿岸国家，途中经过的海域④是
 - A. 地中海
 - B. 黑海
 - C. 红海
 - D. 阿拉伯海

图 5 示意 2012 年春运期间，由某省会城市甲经铁路运步探亲的旅客数量，读图 5，完成 31~33 题。



图 5

31. 甲城市所在省区的简称是
 A. 沪 B. 粤 C. 苏 D. 浙
32. 春运期间客运压力最大的铁路干线是
 A. 京广线 B. 焦柳线
 C. 浙赣线 D. 陇海线
33. 春运现象反映出
 A. 甲市所在省区劳务输出量大 B. 区域经济发展不均衡
 C. 区域文化差异大 D. 区域环境质量差异大

读表 1，完成 34~35 题。

表 1 黄河入海口（利津水文站）多年平均径流量和输沙量变化

时段	平均径流量 (亿立方米)	平均输沙量 (亿吨)
1954-1964 年	459.1	11.7
1964-1976 年	431.7	11.2
1976-1996 年	257.2	5.3
1996-2000 年	79.4	2.6

34. 20 世纪下半叶，黄河入海口多年平均径流量和输沙量的变化特点是
 A. 基本持平 B. 不断上升
 C. 不断减少 D. 先增后减

35. 黄河入海泥沙变化的原因主要是
- A. 上游水库调水调沙
 - B. 流域降雨量不断增加
 - C. 海水倒灌现象增多
 - D. 中游水土保持效果显著

图6为某地等高线地形图(单位:米),读图6,完成36~38题。

36. P、Q两点的相对高度最接近
- A. 150米
 - B. 210米
 - C. 260米
 - D. 301米



图6

37. 图中L河
- A. 先流向西南,后流向东南
 - B. 先流向西北,再流向东北
 - C. 先流向东南,后流向西南
 - D. 先流向东北,再流向西北

38. 图中四个地点中,每天最早见到日出的是
- A. P地
 - B. Q地
 - C. R地
 - D. H地

2011年11月11日上午9时,中国第28次南极科考队乘“雪龙”号考察船穿越赤道,读图7,完成39~40题。

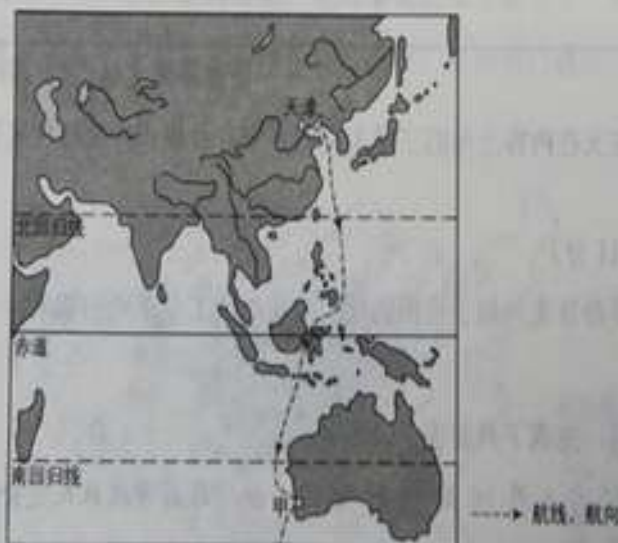


图7

39. 考察船穿越赤道时, 当地该日昼长约
- A. 6 小时
 - B. 10 小时
 - C. 12 小时
 - D. 14 小时
40. 考察船途经甲港口补给, 该地的气候类型是
- A. 地中海气候
 - B. 热带沙漠气候
 - C. 热带草原气候
 - D. 热带雨林气候

二、非选择题: 41-46 小题, 共 70 分, 把答案写在答题卡相应题号后。

41. 回答问题。(13 分)

概述清朝康乾时期维护国家统一和领土完整的史实。

42. 阅读材料, 回答问题。(11 分)

材料

新旧三民主义的比较

	旧三民主义	新三民主义
民族主义	反对民族压迫, 反对满洲贵族的统治	中国民族自求解放, 反对帝国主义之侵略, 中国境内各民族一律平等
民权主义	推翻君主专制政体, 建立国民的政府, 国民一律平等	民权为一般平民所共有, 凡真正反对帝国主义之个人及团体, 均享有一切自由及权利
民生主义	平均地权	平均地权, 节制资本

——据张海鹏主编:《中国近代通史》编制

概括新三民主义在内容上与旧三民主义的区别, 并指出产生这种区别的原因。

43. 回答问题。(11 分)

第一次工业革命首先兴起于英国的原因及第一次工业革命的影响。

44. 阅读图文资料, 完成下列要求。(10 分)

北京时间 2012 年 6 月 16 日 18 时 56 分, 执行我国首次载人交会对接任务的神舟九号飞船, 在酒泉卫星发射中心(见图 8)发射升空后准确进入预定轨道, 顺利将 3 名航天员送上太空。

绝密 ★ 启用前

2012年成人高等学校招生全国统一考试

历史、地理试题答案及评分参考

说明：1. 在非选择题中考生的答案与参考答案相近的，可酌情评分，但不得超过本题所分配的分数。

2. 考生答案中，中国地名出现错别字一般不给分；外国地名应以正式公开出版的《世界地图集》为依据评分，若出现同音字可酌情评分。

一、选择题：每小题2分，共80分。

- | | | | | |
|-------|-------|-------|-------|-------|
| 1. B | 2. A | 3. B | 4. B | 5. B |
| 6. D | 7. A | 8. C | 9. B | 10. D |
| 11. C | 12. D | 13. A | 14. C | 15. C |
| 16. D | 17. D | 18. C | 19. B | 20. A |
| 21. D | 22. B | 23. B | 24. C | 25. D |
| 26. B | 27. A | 28. B | 29. C | 30. C |
| 31. B | 32. A | 33. B | 34. C | 35. D |
| 36. A | 37. D | 38. D | 39. C | 40. A |

二、非选择题：共70分。

41. 答案要点：(13分)

对内：平定蒙古准噶尔部及天山南北割据势力的叛乱；加强对西藏的管辖（设立驻藏大臣、实行金瓶掣签）；平定三藩之乱；改土归流；统一台湾，设置台湾府。(10分)

对外：雅克萨之战、尼布楚条约。(3分)

42. 答案要点：(11分)

区别：新三民主义的民族主义增加了对外反帝，对内民族平等的新内容；民权主义主张普遍平等的民权；民生主义增加了节制资本。(5分)

原因：清政府已被推翻，军阀统治；中共和共产国际的支持和帮助；孙中山革命思想的转变。(6分)

43. 答案要点：(11分)

原因：资产阶级统治在英国确立；资本主义迅速发展；海外贸易和殖民掠夺，积累了资本，拓展了海外市场和廉价原料产地；圈地运动提供了大量雇佣劳动力；手工业发展积累了生产技术知识，市场需求不断扩大。(5分，答出三点即可给满分)

影响：极大地提高了生产力；引起经济结构和社会结构的重大变革；密切了世界各地之间的联系，确立了资本主义对世界的统治。(6分)

44. 答案要点：(10分)

(1) 甘肃省 兰新 (4分)

(2) 内蒙古自治区 (2分)

①③ (4分)

45. 答案要点：(12分)

(1) 空间分布不均衡；重灾区集中分布在中(西)部地区(密西西比河流域)，(4分，其他合理答案，酌情评分)

(2) 玉米、小麦、大豆 (4分，答对两个即可得满分)

(3) 加大农业补贴；加强农业保险；加大科技投入等。(4分，其他合理答案，酌情评分)

46. 答案要点：(13分)

(1) 东部 (2分)

上海、天津 (2分)

①② (2分)

(2) 省区面积较大；经济发展不平衡；以轻工业为主，耗能低。(3分，其他合理答案，酌情评分)

(3) 调整产业结构；转变能源消费结构；提高能源利用效率；节能减排。(4分，其他合理答案，酌情评分)